

Vrydag, 8 Mei 2020  
Taak 3 (Maatjie- somme)

1	
1	0
0	1

2	
0	2
1	1
2	0

3	
0	3
1	2
2	1
3	0

**Die getal in die dakkie is hoeveel lekkers jy het.**


Kom ons vat die eerste huisie. Ek het net een lekkertjie. As ek 1 het, hoeveel gaan my maat kry, niks. As my maat 1 kry hoeveel gaan ek kry, niks.

**WANT** ek het net 1 lekkertjie.

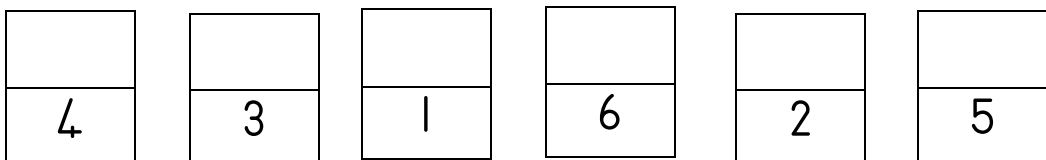
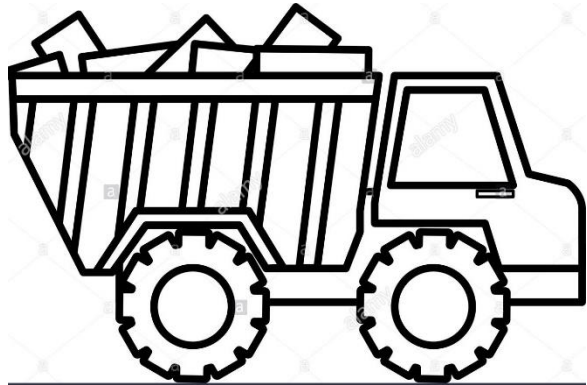
Nou is dit jou beurt om die getalle in te vul.

Deel dit nou tussen jou en jou maat.

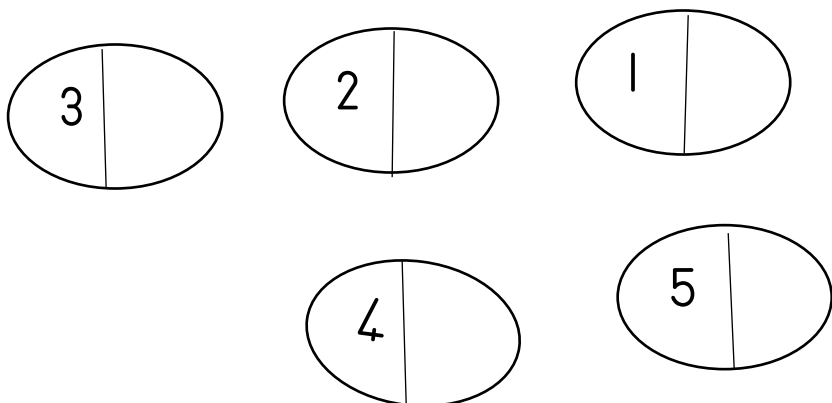

Maak seker hoeveel jy het.

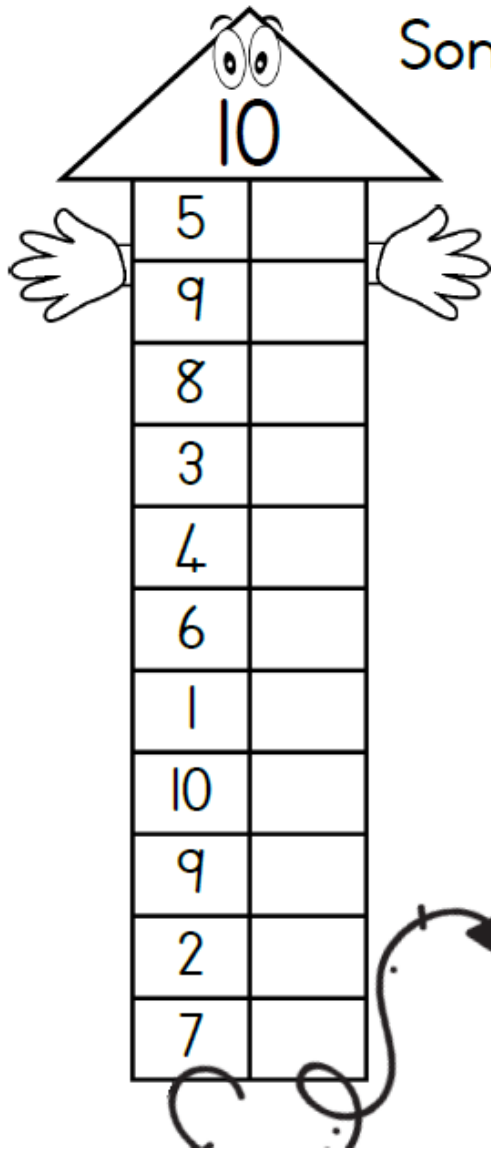


Maak 6 bakstene



Maak 5 eiers





Somme van 10.

$$5 + \square = 10$$

$$9 + \square = \square$$

$$8 + \square = \square$$

$$3 + \square = \square$$

$$4 + \square = \square$$

$$6 + \square = \square$$

$$1 + \square = \square$$

$$10 + \square = \square$$

$$9 + \square = \square$$

$$2 + \square = \square$$

$$7 + \square = \square$$

JOU ou STER !